

Nationaal VVN Verkeersexamen 2019

Naam _____

School _____

Groep _____

Mag het busje
zo vertrekken?

- Ja
- Nee





Vraag 1

Noor ziet een verkeersbord.
Welke beginszin hoort bij dit bord?

- Je mag hier niet...
- Kijk, hier is...
- Pas op...
- Je moet hier...



Vraag 2

Romy wil rechtdoor.
De andere verkeersdeelnemers gaan ook rechtdoor. Wat is het grootste gevaar voor Romy?

- Dat Romy geen voorrang krijgt van de motor, omdat deze haar niet op tijd ziet.
- Dat Romy geen voorrang krijgt van de fietser, omdat deze haar niet op tijd ziet.
- Dat de voetgangers Romy niet laten voor gaan, omdat ze aan het kletsen zijn.



Vraag 3

Fianne fietst achter twee andere fietsers. Van rechts komt een racefietser met hoge snelheid aan. Wat kan Fianne nu het beste doen?

- Zo achter de fietsers voor haar blijven fietsen.
- Bellen en roepen naar de fietsers voor haar.
- Meer afstand nemen tot de fietsers voor haar.



Vraag 4

Anna en Eva fietsen naast elkaar. Er komt een auto aan. Wat moeten ze nu doen?

Er zijn **twee** antwoorden goed.

Foto 1

Foto 2

Foto 3



Vraag 5

Milo fietst met zijn vrienden. Ze naderen deze kruising. Wat kan Milo nu het beste doen?

- Doorfietsen, om zo de groep bij elkaar te houden.
- Stoppen en de anderen laten gaan.
- Doorfietsen, want de anderen konden ook voor het verkeer langs.



Vraag 6

Elif hoort berichtjes binnenkomen en wil op haar smartphone kijken. Kruis aan wat gevaarlijk kan worden. Er zijn **drie** antwoorden goed.

- Het rennende meisje dat het fietspad op loopt
- De bus die er aankomt
- De fietser vóór Elif die afremt
- Tegenliggers op de fiets
- De reclameborden bij de bushalte
- De skateboarder



Vraag 7

Welke fiets is veilig?

- Fiets 1
- Fiets 2
- Fiets 3



Vraag 8





Isa nadert de rotonde. Wie moet zij voorrang geven?

- De fietser van links (A) en de fietser van rechts (C)
- De fietser van links (A) en de voetganger (B)
- De fietser van rechts (C) en de voetganger (B)



Vraag 9

Emma ziet dit verkeersbord. Welk bord staat er aan de andere kant van deze straat?

- | | | | |
|-----------------------|--|-----------------------|--|
| <input type="radio"/> |  | <input type="radio"/> |  |
| | uitgezonderd
 | | uitgezonderd
 |
| <input type="radio"/> |  | <input type="radio"/> |  |
| | uitgezonderd
 | | uitgezonderd
 |



Vraag 10

Mees fietst en ziet voor zich een stilstaande auto. En een bus die weg wil rijden. Wat kan Mees het beste doen?

- Foto 1
- Foto 2
- Foto 3



Vraag 11

Tom luistert naar muziek door een koptelefoon. Waarom is dat gevaarlijk?

- Tom merkt een gat in het wegdek voor hem niet op.
- Tom merkt de scooter achter hem niet op.
- Tom merkt het verkeersbord niet op.



Vraag 12

Vier kinderen fietsen naar school. Wat kunnen ze in deze situatie het beste doen?

- Ze kunnen naast elkaar blijven fietsen, want de bocht is overzichtelijk.
- Ze kunnen niet goed zien of er verkeer aankomt, dus moeten ze achter elkaar gaan fietsen.
- Ze kunnen het beste ruimte maken voor andere weggebruikers en in de berm fietsen.



Vraag 13

Cecilia wil rechtsaf. Wie moet ze voor laten gaan?

- Niemand, ze mag zelf eerst.
- Ze moet Marleen voor laten gaan.
- Ze moet de auto voor laten gaan.
- Ze moet Marleen en de auto voor laten gaan.



Vraag 14

De auto verlaat een uitrit.
Wat kan Finn het beste doen?

- Foto 1
- Foto 2
- Foto 3

Je bent
al over
de helft!





Vraag 15

Mag Minte hier links afslaan?

- Nee, het bord met de pijl naar rechts geldt ook voor fietsers.
- Ja, het bord met de pijl naar rechts geldt alleen voor voetgangers.
- Ja, het bord met de pijl naar rechts geldt alleen voor auto's.



Vraag 16

Eva nadert een kruising. Er staat een vrachtauto te wachten. Eva en de vrachtauto willen allebei rechtdoor. Waar kan Eva het beste wachten?

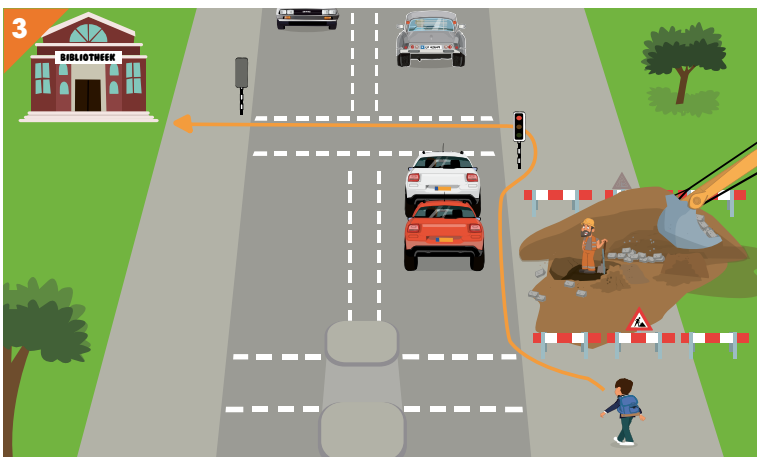
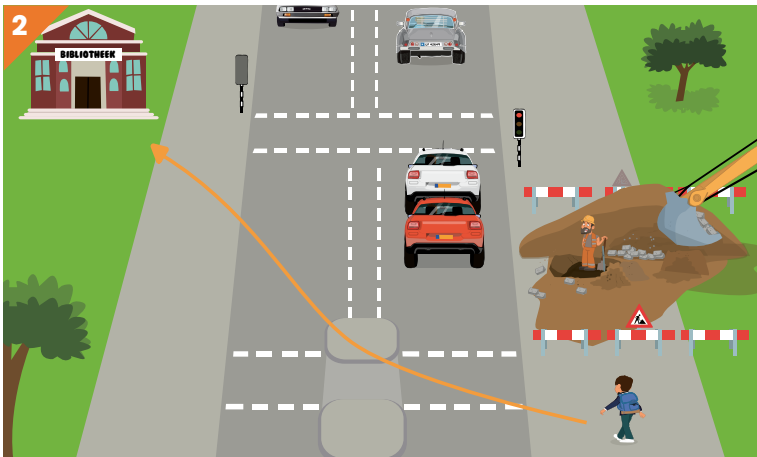
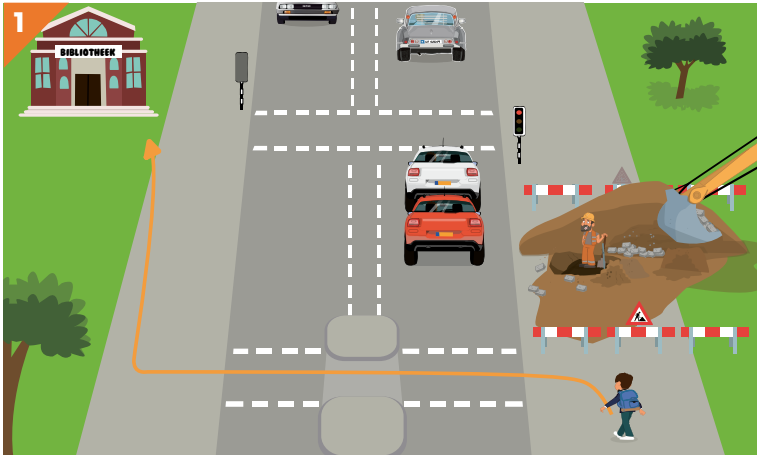
- Plaats 1
- Plaats 2
- Plaats 3



Vraag 17

Het is mistig. Johan gaat op de fiets naar basketbaltraining. Welke twee adviezen kun je hem nu het beste geven? Er zijn **twee** antwoorden goed.

- Doe je fietsverlichting aan.
- Trek lichtgekleurde kleding aan.
- Bel regelmatig met je fietsbel.
- Trek felgekleurde/reflecterende kleding aan.



Vraag 18

Daan wil naar de bibliotheek.
Hij moet een drukke weg oversteken.
Welke route kan hij het beste nemen?

- Tekening 1
- Tekening 2
- Tekening 3



Vraag 19

Sanne rijdt met haar skelter.
Wat kan zij het beste doen?


- Zorgen voor verlichting om gezien te worden.
- Zorgen voor een fietsbel om gehoord te worden.
- Zorgen voor voldoende snelheid om niet te hinderen.



Vraag 20

Jeno wil oversteken. Het verkeerslicht springt net op groen. Van links komt een fietser. Waar moet Jeno rekening mee houden?

- Dat hij de fietser voor moet laten gaan.
- Dat hij aan de overkant is voordat het groene licht gaat knippen.
- Dat hij misschien niet wordt voorgelaten door de fietser.



Vraag 21





Koen wil oversteken met de step.
De auto wil rechtsaf en de fietser linksaf.
Wie mag eerst gaan?

- De auto
- De fietser
- Koen



Vraag 22

Noor loopt met de fiets aan de hand verder.
Welke borden geven aan dat zij hier moet lopen?
Er zijn **twee** antwoorden goed.

- 
- 
- 
- 



Vraag 23

De vrachtauto rijdt achteruit.
Welk advies kun je dit meisje het beste geven?

- Doe een paar stappen terug en laat de vrachtauto voorgaan.
- Loop maar door, je mag voorgaan.
- Loop maar even om de vrachtauto heen en steek er vlak voor over.



Vraag 24

Jennifer wil rechtdoor. Wie moet ze voor laten gaan?

- Niemand, ze mag zelf eerst.
- Ze moet de motor voor laten gaan
- Ze moet de fietser voor laten gaan.
- Ze moet de fietser en de motor voor laten gaan.



Vraag 25

Martijn gaat naar school. Hij zit achterop de scooter bij zijn moeder. Welk advies kan hij nu het beste geven aan zijn moeder?

- "Nou mam, ik zou doorrijden, je kunt er best langs rijden."
- "Nou mam, ik zou omrijden, je mag hier niet langs."
- "Nou mam, ik zou hier parkeren, we kunnen er best langs lopen."

Einde examen

Controleer of je alle vragen hebt gemaakt. Als je nog tijd over hebt, kun je de puzzels op de volgende bladzijde maken.



Rebus

Wat staat hier? Los de rebus op.



-v -r

+



n=r

+



-d



pr=v

+



-v a=i



-og

+




-e



pi=st

Kruiswoordpuzzel

Welke woorden horen bij de omschrijvingen? Vul ze in.



VAN LINKS NAAR RECHTS

1. Openbaar vervoermiddel
4. Tegenovergestelde van rechts
6. Vervoermiddel
8. Groot voertuig
10. Dit ben je als je fietst.
13. Kleine ... gaat voor grote ...
14. Bij dit weer moet je je fietsverlichting aandoen.
15. Dit ben je als je loopt.
16. Verplicht onderdeel van een fiets

VAN BOVEN NAAR BENEDEN

2. Rijd altijd zoveel mogelijk ...
3. Vervoermiddel met 4 wielen.
5. Plek waar je moet lopen.
7. Je mag voorgaan als iemand uit een ... komt.
9. Voorrangsvoertuig
11. ... op dezelfde weg gaat voor.
12. Plek waar je veilig kunt oversteken.

Goed
je best
gedaan!



Uitgave:
Veilig Verkeer Nederland
Postbus 66, 3800 AB Amersfoort
Telefoon (088) 524 88 00
www.vvn.nl
examen.vvn.nl

Organisatie en eindredactie:

Veilig Verkeer Nederland

Auteurs: Mirthe Niehoff, Yvonne Baars
en Veilig Verkeer Nederland

Filmopnames: Met14

Tekeningen: Arjen Niezen

Foto's: Hilde Halvorsen en
Noor van Mierlo

Grafisch ontwerp: Zeppa

Druk: Kampert Nauta

Commissie Verkeersexamens:

P.G.S.M. Geurts, K.M. Lamminga,

T. Rutgers, M. Wenmakers,

S. Henning.

Advies: Dit examen is tot stand

gekomen in samenwerking met Cito.

Met dank aan: De basisscholen, die hun
medewerking gaven aan het filmen,
fotograferen en het uitproberen van de
teksten en filmpjes.

